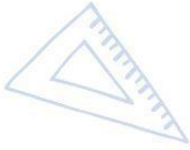
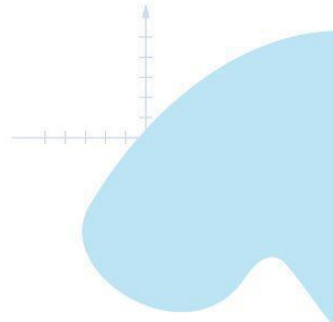
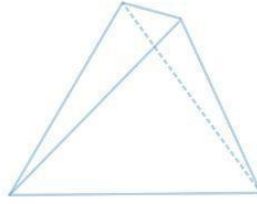




Servicio de
Impuestos
Internos



2° Básico

Matemática

Eje Número y Operaciones

$8 \times 4 = 32$
 $8 \times 5 = 40$


Apoderados

$2 + 2$



$\frac{2}{8} + \frac{4}{8} = \frac{6}{8} = 0.75 =$

Ficha de
Aprendizaje





Eje Números y Operaciones

Estimado(a) apoderado(a), la siguiente ficha está diseñada para que puedas apoyar el desarrollo de aprendizajes en el estudiante, con una secuencia de actividades similares a las que él o la docente resuelve con ellos en aula.

Te invitamos a realizar junto al estudiante, la siguiente ficha:

Nombre del estudiante:

Nombre del apoderado:

Fecha:

Objetivo de Aprendizaje	Indicadores de Evaluación
Leer números del 0 al 100 y representarlos en forma concreta, pictórica y simbólica.	Leen un número dado del 0 al 100 en cifras y en palabras.
	Representan en forma concreta, pictórica y viceversa, con el uso de: <ul style="list-style-type: none"> ● bloques multibase ● tabla de 100 ● monedas ● bloques apilables
	Escriben un número dado del 0 al 100, en cifras y en palabras.





Estimado(a) apoderado(a):

En esta ficha el estudiante deberá **“ayudar a Ivo”** a resolver diferentes situaciones en las que se ve involucrada la lectura, escritura y representación de números entre 0 y 100.



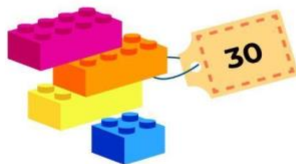

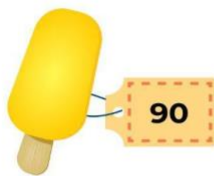

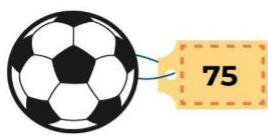




I. **Lea:**

Ivo desordenó todos los bloques multibase y ahora no sabe cómo relacionarlos de manera que coincida el juguete con la representación adecuada.

El estudiante deberá **leer** las cantidades representadas en los precios de los productos y **unirlas** con la representación que corresponda.





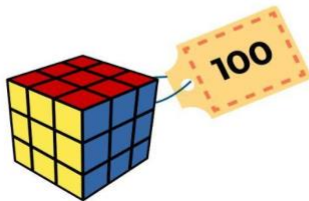

El estudiante deberá dibujar en los cuadros las monedas que necesita para comprar cada uno de los siguientes juguetes.

Si tiene monedas reales, se sugiere que las use para representar las cantidades.

Ejemplo:

12

10 PESOS





Ivo está revisando las tarjetas de él y su familia. Comienza a ordenarlas leyendo los números que aparecen encerrados en el círculo rojo.

El estudiante deberá escribir con palabras el número encerrado en la circunferencia en el cuadro de la derecha señalado con la flecha y luego señalar el orden de menor a mayor.

	<input type="text"/>
	<input type="text"/>
	<input type="text"/>



Ficha de Aprendizaje

Apoderado



Léale las instrucciones al estudiante para que complete con la información que corresponda. Escriba los números:

Edad del niño o niña es:	3 monedas de a \$10 pesos son:
Edad del adulto que colabora con la ficha:	Los dos últimos números de la dirección de la casa o departamento son:

